

Түркістан облысы. Сарыағаш қаласы  
ЖШС «Оқу орны ЕР-АЙ-БИ»

«ҚАРАЛДЫ»

ӘБ отырысында қаралды

Хаттама № \_\_\_\_\_

Бірлестік жетекшісі: Г.С Шорабекова



«31» мамыр 2024ж.

«КЕЛІСЕМІН»

Директордың оқу ісі

жөніндегі орынбасары

Б.Аймагова



«31» мамыр 2024ж.

«БЕКІТЕМІН»

мектеп директоры

А.С. Назарбаева



«31» мамыр 2024ж.



# Күнтізбелік – тақырыптық жоспар математика және логика (т.п)

3-4 сыныптар

Пән мұғалімі: Б.Аймагова

2024 2025 оқу жылы

## Түсінік хат

Пәні: Математика және логика

Сыныбы: 3а, 3б

Оқыту түрі: 4а, 7, 5 сыныптық

Аптасына сағат саны: 1

Жалпы сағат саны:

**Пәннің мақсаты:**

Оқушылардың логикалық ойлау қабілетін, математикалық тілде дәл және нақты сөйлеу дағдыларын қалыптастыру, өмірлік жағдаяттарда есептерді талдап, тиімді шешім қабылдау білігін дамыту.

**Міндеттері:**

- Негізгі математикалық ұғымдарды меңгерту (сан, өрнек, теңдеу, фигура, т.б.);
- Ойлау, талдау, салыстыру, қорыту қабілеттерін дамыту;
- Логикалық есептерді шешу арқылы шығармашылық ойлауын жетілдіру;
- Математика мен логиканың өзара байланысын түсіндіру;
- Оқушыларды дәлелдеу мен пайымдау мәдениетіне тәрбиелеу.

**Пәннің мазмұны:**

Пән мазмұны оқушылардың жас ерекшеліктеріне сай мынадай бағыттар бойынша құрылады:

1. Сандар және амалдар: сан ұғымы, амалдардың қасиеттері, өрнектер.
2. Логикалық ойлау негіздері: пайымдау, шарт, шындық пен жалғандық ұғымдары.
3. Геометриялық пішіндер: фигураларды тану және салыстыру.
4. Логикалық есептер мен ребустар: математикалық және вербалды логика элементтері.

5. Математикалық модельдеу: өмірден алынған мысалдар арқылы есеп шығару.

**Күтілетін нәтижелер:**

Оқушылар:

- логикалық ой қорытындыларын жасай алады;
- есептерді шешудің әртүрлі тәсілдерін қолданады;
- математикалық терминдерді дұрыс қолданады;
- дәлелдеу және пайымдау дағдыларын көрсетеді;
- күнделікті өмірде математикалық және логикалық білімдерін пайдаланады.

**Оқыту әдістері мен формалары:**

- түсіндіру, сұрақ-жауап, топтық жұмыс, ойын элементтері;
- логикалық тапсырмалар, практикалық жұмыстар;
- интерактивті әдістер (ребус, sudoku, логикалық ойындар).

**Бағалау түрлері:**

- ағымдық және жиынтық бағалау;
- тест, бақылау жұмыстары;
- жобалық жұмыс және логикалық тапсырмаларды орындау.



**3-сынып**  
**Математика және логика**

<b>Қ/с</b>	<b>Сабақтың тақырыбы</b>	<b>сағаты</b>	<b>мерзімі</b>
1	Балалардың даму деңгейін анықтау	1	04.09.24
2	Ми гимнастикасы	1	11.09.24
3	Көзге арналған жаттығулар	1	18.09.24
4	Зейінді топтауды дамыту	1	25.09.24
5	Назар аударуды дамыту	1	02.10.24
6	Назар аударуды жетілдіру	1	09.10.24
7	Зейінділікті жаттықтыру	1	16.10.24
8	Зейінділікті жаттықтыру	1	23.10.24
9	Есту арқылы есте сақтауды дамыту	1	06.11.24
10	Есту арқылы есте сақтауды жетілдіру	1	13.11.24
11	Есту арқылы есте сақтауды жаттықтыру	1	20.11.24
12	Көру арқылы есте сақтау қабілетін дамыту	1	27.11.24
13	Көру арқылы есте сақтау қабілетін жетілдіру	1	04.12.24
14	Көру арқылы есте сақтау қабілетін жаттықтыру	1	11.12.24
15	Логикалық ойлауды дамыту	1	18.12.24
16	Логикалық ойлауды жетілдіру	1	25.12.24
17	Логикалық ойлауды жаттықтыру	1	15.01.25
18	Логикалық ізденіс тапсырмалары	1	22.01.25
19	Логикалық ізденіс тапсырмалары	1	29.01.25
20	Заңдылықты іздеуге үйрету	1	05.02.25
21	Заңдылықты іздеуге жаттықтыру	1	12.02.25

22	Зандылықты іздеуге жаттықтыру	1	19.02.25
23	Қиялды жетілдіру	1	26.02.25
24	Ойша көз алдына елестету	1	05.03.25
25	Елестетуді жетілдіру	1	12.03.25
26	Кеңістікте қиялды дамыту	1	19.03.25
27	Кеңістікте қиялды жетілдіру	1	02.04.25
28	Кеңістікте заттардың орналасуын анықтау	1	09.04.25
29	Кеңістікте заттардың орналасуын жетілдіру	1	16.04.25
30	Қайталау	1	23.04.25
31	Білімдарлар сайысы	1	30.04..25
32	Білімдарлар сайысы	1	14.05.25
33	Тест тапсырмаларын орындау	1	21.05.25



# Математика және логика

4-сыныптар 2024-2025ж

Қ/с	Сабақтың тақырыбы	сағаты	4 « А»	4 « Ә»	4 «Б»
1	Бірдей суреттерді толықтыру	2	3.09 10.09	3.09 10.09	3.09 10.09
2	«Өз көзіңе сенбе» ойыны	2	17.09 24.09	17.09 24.09	19.09 26.09
3	Сурет бойынша есеп құрастыру	2	1.10 8.10	1.10. 8.10	1.10. 8.10
4	Анаграмманы оқып, жазу	1	15.10	15.10	15.10
5	Математикалық жұмбақ ойыны	2	22.10 5.11	22.10 5.11	22.10 5.11
6	Сөзжұмбақты шешу	2	12.11 19.11	12.11 19.11	12.11 19.11
7	Ойлан ,тап	2	26.11 3.12	26.11 3.12	26.12 3.12
8	Ребус шешу	1	10.12	10.12	10.12
9	Тапсырманы пайымдау	2	17.12 24.12	17.12 24.12	17.12 24.01
10	Қиял мен қисынды жаттықтыру	1	14.01	14.01	14.01
11	Логикалық тапсырмалар	2	21.01 28.01	21.01 28.01	21.01 28.01
12	Викторина	2	4.02 11.02	4.02 11.02	4.02 11.02
13	Жадында сақтауды жаттықтыру	2	18.02 25.02	18.02 25.02	18.02 25.02
14	Математикалық жұмбақ шешу	2	4.03 11.03	4.03 11.03	4.03 11.03
15	Схема бойынша есеп шығару	1	18.03	18.03	18.03
16	«Жасырынған сөздер ойыны»	2	1.04 8.04	1.04 8.04	1.04 8.04
17	«Қосу таңбасын қой» ойыны	1	15.04	15.04	15.04
18	Фигуралардан сурет құрастыр	2	22.04 19.04	22.04 29.04	22.04 29.04
19	Білімділер сайысы	2	6.05 13.05	6.05 13.05	6.05 13.05



## Білімдарлар сайысы

Бір сөзбен қалай айтар едің? Оны жаз.

1. Театрға барған адам - (көрермен)
2. Дүкенге барған адам - (сатып алушы)
3. Мектепте окитын бала - (оқушы)
4. Кітапханаға келген адам - (оқырман)
5. Емханаға келген адам - (наукас)

Тұрақты сөз тіркесінің тұсына мағынасын жаз.

Қабырғамен кеңес - (Отбасыңмен ақылдас)

Жүрек жалғап алу - (Тамактану)

Сыры ашылды - (Жасырын ойы білініп қалды)

Кезін тапты - (Істің ретін, орайын келтірді)

Сүйегіне сіңген - (Дағдыланып, әдетіне айналған)

Майдай жакты — (Жанына жайлы келді, қатты ұнады)

Жеті атаның ретін цифрмен көрсет.

Әке, бала, немере, шөбере, шөпшек, немене, туажат.

1      2      3      4      5      6      7

Берілген сөздердің қарсы мағынасын жаз.

күлді-жылады      әдепті - дөрекі

жүрді - тоқтады      кетті - келді

салды - алды      ұшты - қонды

Қанша айырмашылығы болса, сонша шаршының суретін сал.

Жауабы: Алты айырмашылығы бар.

Сөзжұмбақты шеш. Жауабы:

1. Қазақтың тұңғыш ғарышкері - (Токтар)
2. Қазақтың ұлы ақыны - (Абай)
6. Қазақтың ұлы ағартушысы - (Ыбырай)
7. Қазақстан Республикасының тұңғыш президенті - (Нұрсұлтан)
8. Қазақ ғарышкері — (Талғат)
9. Қазақ ғылым академиясының тұңғыш президенті - (Қаныш)
10. Қазіргі балаларының журналының бас редакторы - (Тұманбай)
11. Балалар журналы - (Балдырған)
12. Халық батыры, жазушы - (Қасым)

Нәтиже дұрыс болатындай етіп таңбалар қой.

Жауабы:  $99 + 9:9 = 100$        $55 - 5 * 5 = 30$

$99:9 + 9 = 20$        $5 * 5 + 5 * 5 = 50$

Суретті мұқият кара. Артық заттың астын сыз. Баска суреттерді боя.


Жауабы: теледидар.

1. Тендікті дұрыс болу үшін қандай сан жазу керек?

2.  $357 \cdot (285 + 851) = 357 * 285 + 357 \cdot 851$

Үйдің әр қабырғасында үш орындық тұратындай етіп, 8 орындықты орналастыр.

Жауабы:



Мына суретте көрсетілген пішінде қанша шаршы бар? Жауабы: 30 шаршы.

Мына суретте көрсетілген пішінде қанша үшбұрыш бар? Жауабы: 18 үшбұрыш.



**7-сабақ**  
**Зейінділікті жаттықтыру**  
**Сабақтың барысы:**

**Ми гимнастикасы.**

**Ширату.**

**Толықтырып айт**

**Жолдасын тастаған жолда қалар.**

Жүзден жүйрік, **мыңнан** тұлпар шығады.

Құстың қанаты бар, адамның **қолы бар.**

Машинаның моторы бар, адамның **жүрегі бар.**

Күшіңе сенбе, **біліміңе сен.**

Денсаулық -**зор байлық.**

Жақсылыққа үйрен, **жамандықтан жирен.**

Ішің ауырса, **аузыңды тый.**

Көзің ауырса, **колыңды тый.**

**Тапсырма №1.** Сөздердің алғашқы әріптерінен жаңа сөз құрап жаз.

Жауабы: Сурет, өнер, бұрыш, нәрсе, сәбіз, Хамит.

**Тапсырма №2.** Мұғалім 6 жемістің атын дауыстап бір рет айтады. Оқушылар мұқият тыңдап алады. Мұғалімнің «жазындар» деген сөзінен кейін есінде қалған жемістердің атын жазады.

Жемістердің атын мұғалімнің тандауына ұсынуға болады.

Мысалы: анар, жузім, шабдалы, өрік, алхоры, құрма.

**Тапсырма №3.** Сөздерді мұқият оқып шық. Олардың ұқсас белгілерін анықтап жаз.

Жауабы: Алма, доп, шар - (домалак) Қант, кар, сүт - (түсі ак) Пияз, тұз, бұрыш - (дәмі ащы) Ұшак, құс - (ұшады) Ат, өгіз — (жүк таситын мал)

**Тапсырма №4.** Суретті мұқият карап шық. Олардың ортак белгісін анықтап, атаулармен меңзер арқылы кос.

Жауабы: а) Көлік - трамвай, пойыз, автобус.

ә) Ыдыс - қасык, кәстрөл, шәйнек, таба. б) Жеміс - алмұрт, алма.

**Тапсырма №5.** Ойдан! Шешуін айт. Дәлелде.

а) Әнуар кесіндінің бойына үш нүкте қойды. Сонда неше кесінді пайда болды?

ә) Әнуар кесіндінің бойына 5 нүкте қойды. Сонда неше кесінді пайда болады?

б) Шеңбердің бойына 2 нүкте қойылды. Сонда неше доға пайда болды?

Жауабы: а) Төрт кесінді пайда болды.

ә) Алты кесінді пайда болды.

б) Шеңбердің бойында екі доға пайда болды.

**Сабақты қорытындылау.**



## 12-сабақ

### Көру арқылы есте сақтау қабілетін дамыту

#### Сабақтың барысы:

Ми гимнастикасы.

Ширату

Қанша? Неше?

Екі қолындағы саусак (10)

Осыдан сегіз жыл бұрын жиырма жастағы жігіт (28)

Аптадағы күн саны (7)

Бір жылдағы күн саны (365)

Қыркүйек пен қаңтар арасындағы ай саны (3)

Төрт үстелдің аяғы (16)

Оң қолдағы саусак саны (5)

Тапсырма №1. Суретті мұқият кара. Шатастырмадағы әріптерді жаз.  
Жауабы: О, У, Т әріптері.

Тапсырма №2. Суретті мұқият кара. Осы бетте көрген ойыншықтардың суретін келесі беттегі шатастырмадан тап. Оны бастыра сыз.

Жауабы: конжык, козғалмалы куыршак, пирамида.

Тапсырма №3. Катені тап және оны түзет. Түсіндіріп бер. Жауабы: Үйлер - көп кабатты.

Дыбыстар - дауысты және дауыссыз.

Құстар - қыстайтын құстар және ұшып кететін құстар.

Сандар - жұп және тақ.

Жануарлар - үй және жабайы жануарлар.

Тапсырма №4. Суретті мұқият кара. Айырмашылықтарын санап, оларды плюспен (+) белгіле.

Жауабы: төрт айырмашылығы бар.

Тапсырма №5. 5 кесіндіден 2 үшбұрыштың суретін сал.

Жауабы:



**Сабақты қортындылау**

## 11-сабақ

Есту арқылы есте сақтауды жаттықтыру

*Сабақтың барысы:*

Ми корытындысы.

Ширату.

Қанша?

Бес тышқанның құлағы (10)

Жеті сиырдың мүйізі (14)

Дүйсенбі сөзіндегі әріптер саны (8)

Ертегідегі айдаһардың басы (7)

Бағдаршамның көздері (3)

Дауыссыз дыбыстар (25)

Қандай үш таңбалы санды алты нөл шығатындай етіп тең бөлуге болады? (888-ді көлденең ортасынан сызып бөлгенде)

**Тапсырма №1.** Мұғалім сөздерді екінші сыңарымен айтады. Оқушы мұқият тыңдап, есінде сақтаған сөздерді жазады.

Жауабы: езен - жаға      орман - батпақ

арба — дөңгелек      дүйсенбі - апта

өсімдік - гүл      бакша - қияр

көйлек - жең      кірпіш - үй

**Тапсырма №2.** Сөйлемді мұқият, бір рет оқы. Келесі бетке есінде қалғаны бойынша сурет сал.

Үйден жоғары, бірақ айдан төмен жұлдыздар, үйдің оң жағында, бірақ машинаның сол жағында өсіп тұрған шыршаның суретін сал.



**Тапсырма №3.** Қай фигураның ішінен бір кесінді жүргізіп, шаршы шығарып алуға болады?

Жауабы: бірінші, төртінші, бесінші фигуралар.

**Тапсырма №4.** Теңдіктер тура болатындай жақшалар қой.  $(53+10):9=7$      $17-40:8=12$

$(36-30)-7=42$        $3+6-18:9=7$

$(49+16)-(28-20)=520$      $(480-32)(5-3)=896$

**Тапсырма №5.** Ой жүгірте отырып, шешімін тап. а) Айдос дәптеріне 5 сурет, ал Айгүл езінің дәптеріне 7 сурет салды. Оларға неше дәптерге сурет салды?

ә) Гүлзарда 5 райхан, 7 раушан және 6 қызғалдақ есіп тұр. Гүлзарда гүлдің неше түрі есіп тұр?

Жауабы: а) Олар екі дәптерге сурет салды.

ә) Гүлзарда үш түрлі гүл есіп тұр.

**Сабақты қорытындылау.**



Д) 176

12. Мен сағат 7:14-те үйден шығып, 7:42-де мектепке келдім. Сабақ 48 минуттан соң басталды. Мен үйден шыққаннан алғашқы сабақ басталғанша қанша уақыт өтті?

А) 52 мин  
В) 56 мин  
С) 1 сағ 12 мин  
Д) 1 сағ 16 мин

13. 512.147 саны берілген.

Жүз мыңдықтар разряды мен жүздіктер разрядындағы цифрларды ауыстыр.



Мыңдар разрядындағы цифрды алып таста.



Мыңдықтар разряды мен бірліктер разрядындағы цифрларды ауыстырыңыз

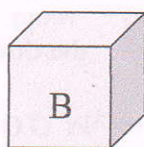
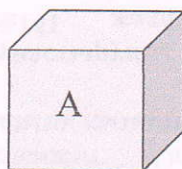
*Нәтижесінде қандай сан шығады?*

А) 18370  
В) 16281  
С) 17540  
Д) 19223

14. А текшесінен 3 дана және В текшесінен 2 дана ойыншық құралған. Ойыншықтардың көлемін табыңыз.

3 см

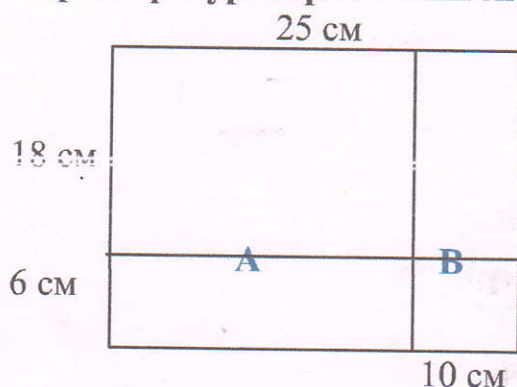
2 см



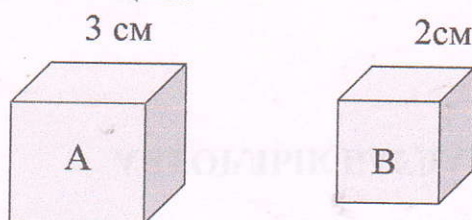
А)  $97 \text{ см}^3$   
В)  $102 \text{ см}^3$   
С)  $101 \text{ см}^3$   
Д)  $93 \text{ см}^3$

15. Дүйсенбі күні мен 27 бет басып шығардым. Сейсенбі күні мен сәрсенбі күніне қарағанда 4 бетке артық басып шығардым. Ал сәрсенбі күні мен дүйсенбі күніне қарағанда 8 бетке кем басып шығардым. Үш күн ішінде барлығы неше бет басып шығардым?

11. Сурет бойынша жауап беріңіз. Фигураны 4 тіктөртбұрыш тәрізді фигураларға бөлінген. Онда:



- А) В және А шаршылар  
 В) В-шаршы емес, А-шаршы  
 С) В және А шаршылар емес  
 Д) В-шаршы, А-шаршы емес
12. Бүгін серуендеуге кешегіге қарағанда 1600 метр көп жүрдім. Егер кеше мен 2100 метр жүрген болсам, онда екі күнде мен қанша жол жүрдім?
13. Фигура екі А және екі В текшесінен құралған. Фигураның көлемін табыңыз.



- А)  $54 \text{ см}^3$   
 В)  $27 \text{ см}^3$   
 С)  $16 \text{ см}^3$   
 Д)  $70 \text{ см}^3$
14. Сағат 19:32-де мен үйге келдім. 27 минуттан кейін кешкі асқа отырдым. Және сағат 20:40-та мен серуендеуге шықтым. Мен кешкі астан бастап, үйде неше минут болдым?
- А) 45 мин  
 В) 43 мин  
 С) 41 мин  
 Д) 39 мин